



**EVALUAREA COMPETENȚELOR FUNDAMENTALE
LA FINALUL CLASEI a II-a
2014**

Model de test

MATEMATICĂ

Județul / sectorul.....

Localitatea.....

Școala.....

Numele și prenumele elevei / elevului.....

.....

Clasa a II-a.....

Băiat

Fată

Cod școală.....

Mircea, Adrian, Vera și Ana citesc aceeași carte, care are 250 de pagini. Până acum, fiecare copil a citit din carte câte un număr de pagini, astfel:



158 pagini



95 pagini



236 pagini



97 pagini

1. Care este ordinea copiilor, în funcție de numărul paginilor citite?

Încercuiește litera corespunzătoare răspunsului corect.

- a) Vera, Adrian, Ana, Mircea
- b) Vera, Ana, Mircea, Adrian
- c) Vera, Mircea, Ana, Adrian
- d) Vera, Mircea, Adrian, Ana

Nu se completează de către elev
COD

1.	<input type="text"/>
----	----------------------

2. Ce număr are penultima pagină citită de Vera?

Încercuiește litera corespunzătoare răspunsului corect.

- a) 157
- b) 230
- c) 235
- d) 237

Nu se completează de către elev
COD

2.	<input type="text"/>
----	----------------------

3. Care dintre operațiile de mai jos trebuie efectuată, pentru a afla câte pagini au citit împreună Vera și Mircea?

Încercuiește litera corespunzătoare răspunsului corect.

- a) $97 + 158$
- b) $236 + 158$
- c) $158 - 97$
- d) $236 - 158$

Nu se completează de către elev
COD

3.	<input type="text"/>
----	----------------------

4. Câte pagini trebuie să mai citească Ana pentru a ajunge până la pagina 100?

Încercuiește litera corespunzătoare răspunsului corect.

- a) 2 pagini
- b) 3 pagini
- c) 197 pagini
- d) 250 pagini

Nu se completează de către elev
COD

4.	<input type="text"/>
----	----------------------

5. Copiii au citit timp de două săptămâni și două zile. Câte zile au citit?
Încercuiește litera corespunzătoare răspunsului corect.

- a) 12 zile
- b) 14 zile
- c) 16 zile
- d) 18 zile

Nu se completează de către elev
COD

5.	<input type="text"/>
----	----------------------

6. Verei i-au rămas de citit 14 pagini. Ea va citi câte 7 pagini în fiecare zi. În câte zile va termina de citit cartea?
Încercuiește litera corespunzătoare răspunsului corect.

- a) 1 zi
- b) 2 zile
- c) 12 zile
- d) 22 zile

Nu se completează de către elev
COD

6.	<input type="text"/>
----	----------------------

7. Ce figură geometrică folosești pentru a desena coperta cărții citite de copii?
Încercuiește litera corespunzătoare răspunsului corect.

- a) un cerc
- b) un pătrat
- c) un triunghi
- d) un dreptunghi

Nu se completează de către elev
COD

7.	<input type="text"/>
----	----------------------

8. Care dintre copii a citit mai mult de 158 de pagini?

Încercuiește litera corespunzătoare răspunsului corect.




- a) Mircea
- b) Adrian
- c) Ana
- d) Vera

Nu se completează de către elev
COD

8.	<input type="text"/>
----	----------------------

9. În tabel sunt trecute numerele paginilor citite de Ana într-o zi. Numerele care lipsesc din tabel reprezintă paginile ei preferate. Care sunt, în ordine crescătoare, numerele paginilor preferate de Ana?

Încercuiește litera corespunzătoare răspunsului corect.

53		55	56
57	58	59	
	62	63	64
65	66	67	68

- a) 54, 61 și 60
- b) 61, 60 și 54
- c) 54, 60 și 61
- d) 53, 59 și 62

Nu se completează de către elev
COD

9.	<input type="text"/>
----	----------------------

12. Mircea are 15 lei și merge la librărie să cumpere cărți. Prețul cărților este notat în tabelul următor:

Carte de povești	9 lei
Carte de poezii	7 lei
Carte de colorat	8 lei
Carte de ghicitori	6 lei

Poate Mircea să își cumpere o carte de colorat și una de povești?
Explică, în spațiul dat, răspunsul tău.

Da, pentru că _____

Nu, pentru că _____

Nu se completează de către elev
COD

12.	<input type="text"/>
-----	----------------------

FELICITĂRI, AI AJUNS LA SFÂRȘITUL TESTULUI!
MULȚUMIM PENTRU PARTICIPARE!